

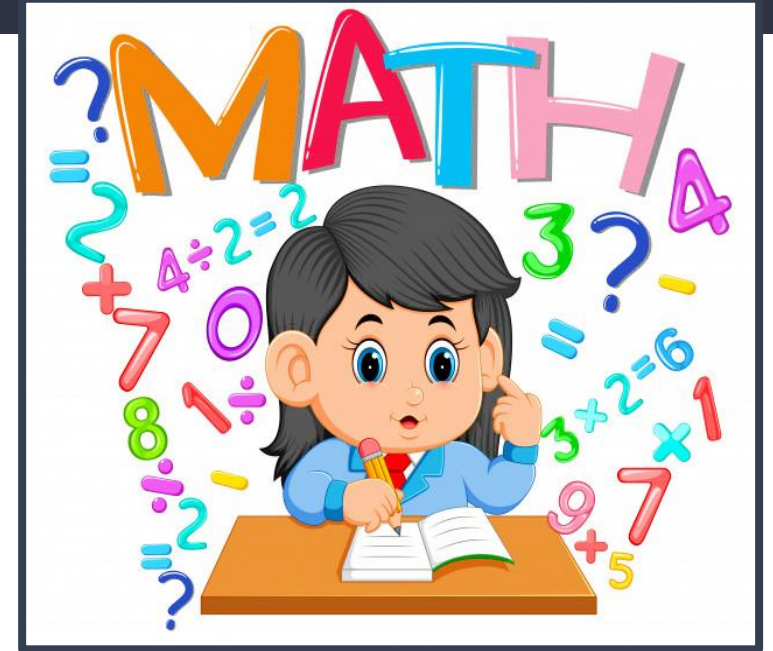
Математика

## Тема 2. Додаємо і віднімаємо числа з переходом через десяток у межах 20

Сьогодні  
13.01.2020

Урок  
№38

*Всім.pptx*  
Нова українська школа



# Порівнюємо математичні вирази





53 - Д



29 - Л



39 - В



30 + 6 = 36




91 - А



25 - У



15 - К



$$24 + 63$$





97-13





$$33 + 45$$






85-23





99-44







$$14 + 11$$





25 - y

55 - k

62 - p

78 - a

84 - i

87 - h

91 - a

Класна листопида  
робота



листопада  
Класна робота

2 4

2 4 4 2



Сьогодні  
13.01.2020

## Математичний відеодиктант





# Ми - України діти

Н.Май

Сьогодні  
13.01.2020

Атракціон “Вищий пілотаж”:  
Гра “Карусель”

55

8

20

6


35




Сьогодні  
13.01.2020

Завдання 1. Який компонент змінюється в кожному стовпчику? Як ця зміна впливає на результат? Доповни рівності.

$$\begin{array}{r} 11 - 7 = 4 \\ +4 \downarrow \\ 15 - 7 = \boxed{8} \end{array} \quad \neq 4$$



$$\begin{array}{r} 8 + 5 = 13 \\ -5 \downarrow \\ 3 + 5 = \boxed{8} \end{array} \quad \neq 5$$





Практикум:

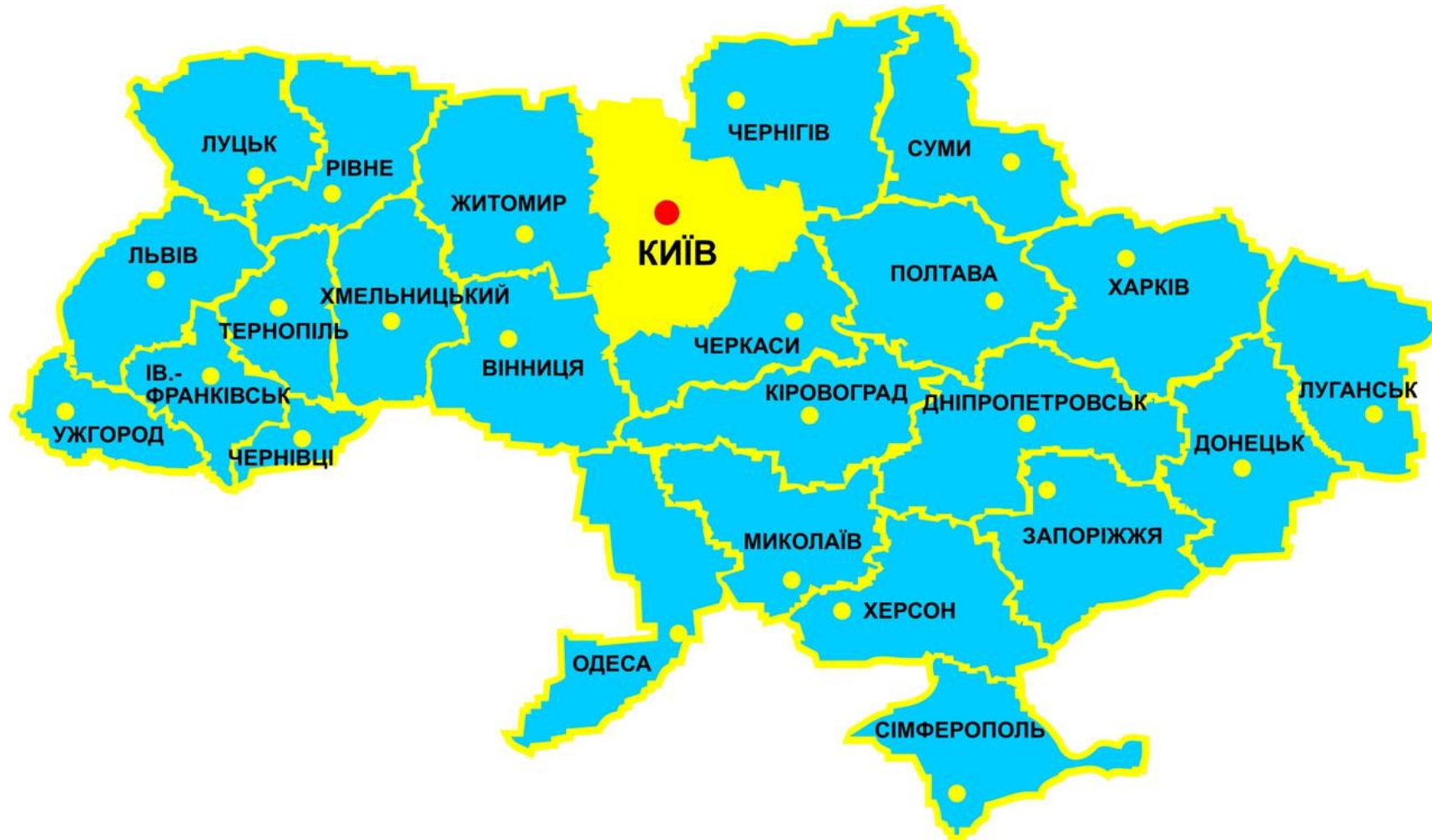
Розглянь вирази в кожній парі. Що змінюється? Як ця зміна впливає на результат? Порівняй вирази, скориставшись визначеною закономірністю.



$6 + 7$	$<$	$8 + 7$				$12 - 8$	$<$	$12 - 5$
$11 - 3$	$<$	$12 - 3$				$14 - 9$	$<$	$14 - 6$
$9 + 4$	$>$	$6 + 4$				$17 - 9$	$>$	$12 - 9$

Сьогодні  
13.01.2020

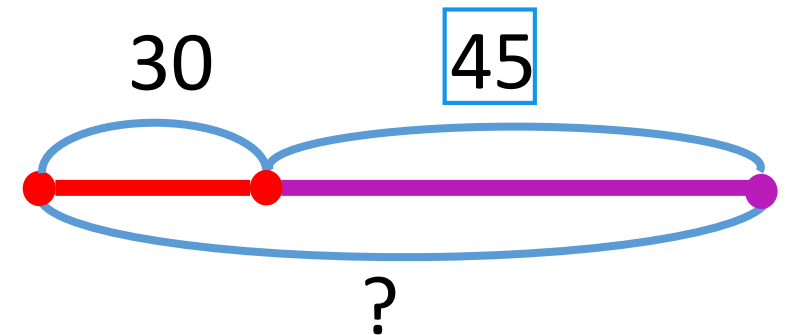
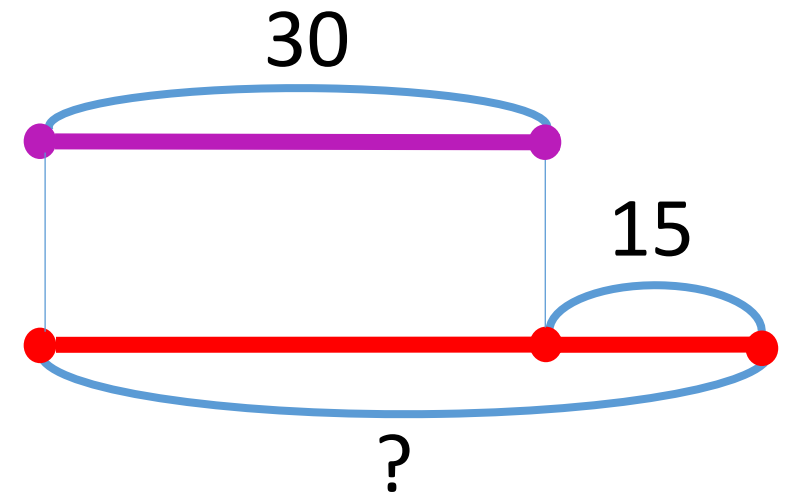
## Фізкультхвилинка “Разом відпочинемо”





Завдання 5. Розв'яжи усно послідовні задачі. Поясни, що позначають відрізки на схемах.

- ❖ Оленка купила книжку “Цікаві факти про Україну” за 30 грн, а Михайлик за книжку “7 чудес України” заплатив на 15 грн більше. Скільки гривень витратив Михайлик?
- ❖ Оленка купила книжку “Цікаві факти про Україну” за 30 грн, а Михайлик за книжку “7 чудес України” заплатив 45 грн. Скільки всього гривень витратили діти?



Завдання 6. Поясни міркування за схемою аналізу. Доповни їх.

- ❖ Оленка купила книжку “Цікаві факти про Україну” за 30 грн, а Михайлик за книжку “7 чудес України” заплатив на 15 грн більше. Скільки всього гривень витратили діти?

Скільки заплатив Михайлик?

Скільки заплатила Оленка?




Скільки всього гривень витратили діти?

Скільки заплатила Оленка?

На скільки більше заплатив Михайлик?

Сьогодні  
13.01.2020

А зараз час несподіваного геометричного завдання.



Сьогодні  
13.01.2020

## Квітуха наша Україна





# Ми - України діти

Н.Май



Сьогодні  
13.01.2020

Створимо пірамідку нашого настрою.

