

ТАК – НІ

- 1. Розташування природних зон тісно пов'язано з кліматом і кліматичними поясами.
- 2. У зоні арктичних пустель літо спекотне, тривалий, температура досягає + 40°
- 3. Природні зони простягаються в широтному напрямку, починаючи з арктичних островів на півночі до зони тайги, а на південь розташовуються з заходу на схід у вигляді вузьких смуг.
- 4. У внутрішніх районах, де багато вологи формуються зони пустель і напівпустель.
- 5. Тундра – природна зона з суворим кліматом, на болотистих ґрунтах ростуть мохи, лишайники і деревоподібна рослинність.
- 6. Тайга є зоною, де ростуть лише широколисті дерева
- 7. У природних зонах лісостепів і степів поширені дуже родючі чорноземні ґрунти, названі « царем ґрунтів», тут вирощують зернові культури (пшеницю, жито, гречку, ячмінь, овес).
- 8. В зоні перемінно - вологих лісів ростуть вічно зелені дерева – магнолія, камелія, лавр, бамбук. З тварин живуть білі ведмеді і полярні лисиці.
- 9. Тропічні пустелі займають Аравійський п - ів і пустелі Тар в Індії.
- 10. У вологих екваторіальних лісах росте понад 40 тисяч видів рослин, тільки пальм є близько 300 видів.



ВСТАНОВИ ВІДПОВІДНІСТЬ

- 1.тайга
 - 2.оазиси
 - 3.ягель
 - 4.джунглі
- А. мох, їжа для північних оленів.
 - Б. природна зона, де ростуть хвойні дерева.
 - В. непрохідний, густий дрімучий ліс.
 - Г. місце в пустелі, де є вода і рослинність



ХТО ЦЕ?











ДЕ ЖИВУТЬ ВЕДМЕДИ?

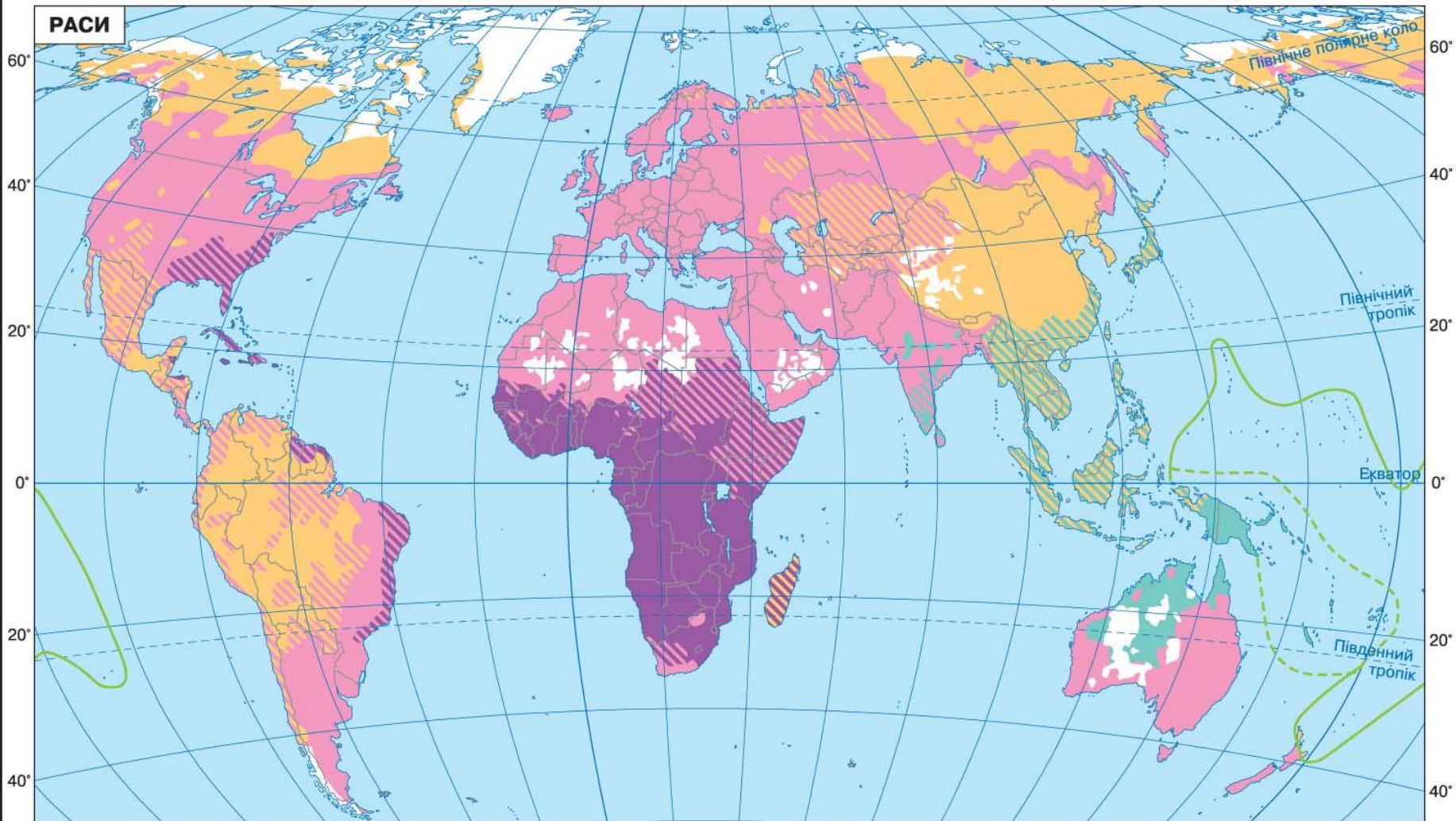




НАСЕЛЕННЯ ЄВРАЗІЇ.

180° 160° 140° 120° 100° 80° 60° 40° 20° 0° 20° 40° 60° 80° 100° 120° 140° 160° 180° 160° 140° 120° 100°

РАСИ



ВЕЛИКІ РАСИ

- Негроїдна раса
- Європеїдна раса
- Монголоїдна раса
- Австралоїдна раса; меланезійці

ЗМІШАНІ ТА ПЕРЕХІДНІ РАСИ

- Негроїдна та європеїдна
- Європеїдна та австралоїдна
- Негроїдна та монголоїдна
- Монголоїдна та австралоїдна; полінезійці та мікронезійці
- Європеїдна та монголоїдна


Незаселені території

ТВОРЧА ЛАБОРАТОРІЯ

- **Завдання.** За картою «Раси» ст.13 в атласі визначте основні регіони розміщення рас територією Євразії. На основі особистих спостережень поясніть різницю в зовнішньому вигляді представників рас.
- (Завдання виконується по рядах:
- I ряд — європеїдна раса,
- II ряд — негроїдна раса,
- III ряд — монголоїдна раса.)



РІЗНІ ПРЕДСТАВНИКИ ЄВРОПЕОЇДНОЇ РАСИ



РІЗНІ ПРЕДСТАВНИКИ НЕГРОЇДНОЇ РАСИ



РІЗНІ ПРЕДСТАВНИКИ МОНГОЛОЇДНОЇ РАСИ



СЛОВЕСНА ГРА

З наданих слів створіть вислів.

Як ви його розумієте?

Люди, собою, рівні,
всіх, рас, між.





НАРОДИ

26	АВСТРАЛІЙЦІ-АБОРИГЕНИ
27	ПАПУАСИ
28	ДРАВІДЬСЬКА СІМ'Я
29	ПАЛЕОАЗІЙСЬКІ НАРОДИ
30	ЕСКИМОСЬКО-АЛЕУТСЬКА СІМ'Я
31	БАСКИ
32	КОРЕЙЦІ
33	ЯПОНЦІ
□	Незаселені території

Позначення

А	австрійці	С	серби, хорвати, словенці, боснійці, македонці та чорногорці
АЗ	азербайджанці	СЛ	словаки
АЛ	албанці	У	уельські
БА	башкири	Ф	фламандці, голландці та фризи
В	вірмени	М	молдовани
Е	естонці	МО	мордва, марі, удмурти
Є	євреї Ізраїлю	П	португальці
К	корсиканці		
КА	калмики		
Л	латиші, литовці		
М	молдовани		
МО	мордва, марі, удмурти		
П	португальці		

МОВНІ СІМ'Ї ТА ГРУПИ

ІНДОЄВРОПЕЙСЬКА СІМ'Я
1 Романська група
2 Германська група
3 Слов'янська група
4 Індіранська група
5 Інші групи індоєвропейської сім'ї
СЕМІТО-ХАМІТСЬКА СІМ'Я
6 Семітська група
7 Берберська група
8 Кушитська група
9 НАРОДИ НІЛО-САХАРСЬКОЇ СІМ'Ї
10 КАВКАЗЬКА СІМ'Я
УРАЛЬСЬКА СІМ'Я
11 Фіно-угорська група
12 Самодійська група
АЛТАЙСЬКА СІМ'Я
13 Тюркська група
14 Монгольська група
15 Тунгусо-маньчжурська група

СІНО-ТИБЕТСЬКА СІМ'Я
16 Китайська група
17 Тибето-бірманська група
18 ПАРАТАЙСЬКА СІМ'Я
АВСТРОАЗІЙСЬКА СІМ'Я
19 В'єтська група
20 Мон-кхмерська група
21 Група м'яо-яо
22 Група мунда

АВСТРОНЕЗІЙСЬКА СІМ'Я
23 Індонезійська група
24 Народи Мікронезії
25 Народи Меланезії

ТВОРЧА ЛАБОРАТОРІЯ

Завдання 1. За картою «Народи та густота населення світу» ст.12- 13 в атласі визначте до деяких мовних груп та сімей відносяться такі народи:

- українці, росіяни, білоруси, поляки;
- німці, англійці, шведи, норвежці;
- французи, італійці, іспанці, румуни, молдавани
- хіндустанці, перси, афганці;
- китайці;
- араби, євреї;
- японці та корейці.





НАРОДИ

26	АВСТРАЛІЦІ-АБОРИГЕНИ
27	ПАПУАСИ
28	ДРАВІДЬСЬКА СІМ'Я
29	ПАЛЕОАЗІЙСЬКІ НАРОДИ
30	ЕСКИМОСЬКО-АЛЕУТСЬКА СІМ'Я
31	БАСКИ
32	КОРЕЙЦІ
33	ЯПОНЦІ
□	Незаселені території

Позначення

А	австрійці	С	серби, хорвати, словенці, боснійці, македонці та чорногорці
АЗ	азербайджанці	СЛ	словаки
АЛ	албанці	У	уельські
БА	башкири	Ф	фламандці, голландці та фризи
В	вірмени	М	молдовани
Е	естонці	МО	мордва, марі, удмурти
Є	євреї Ізраїлю	П	португальці
К	корсиканці		
КА	калмики		
Л	латиші, литовці		
М	молдовани		
МО	мордва, марі, удмурти		
П	португальці		

МОВНІ СІМ'Ї ТА ГРУПИ

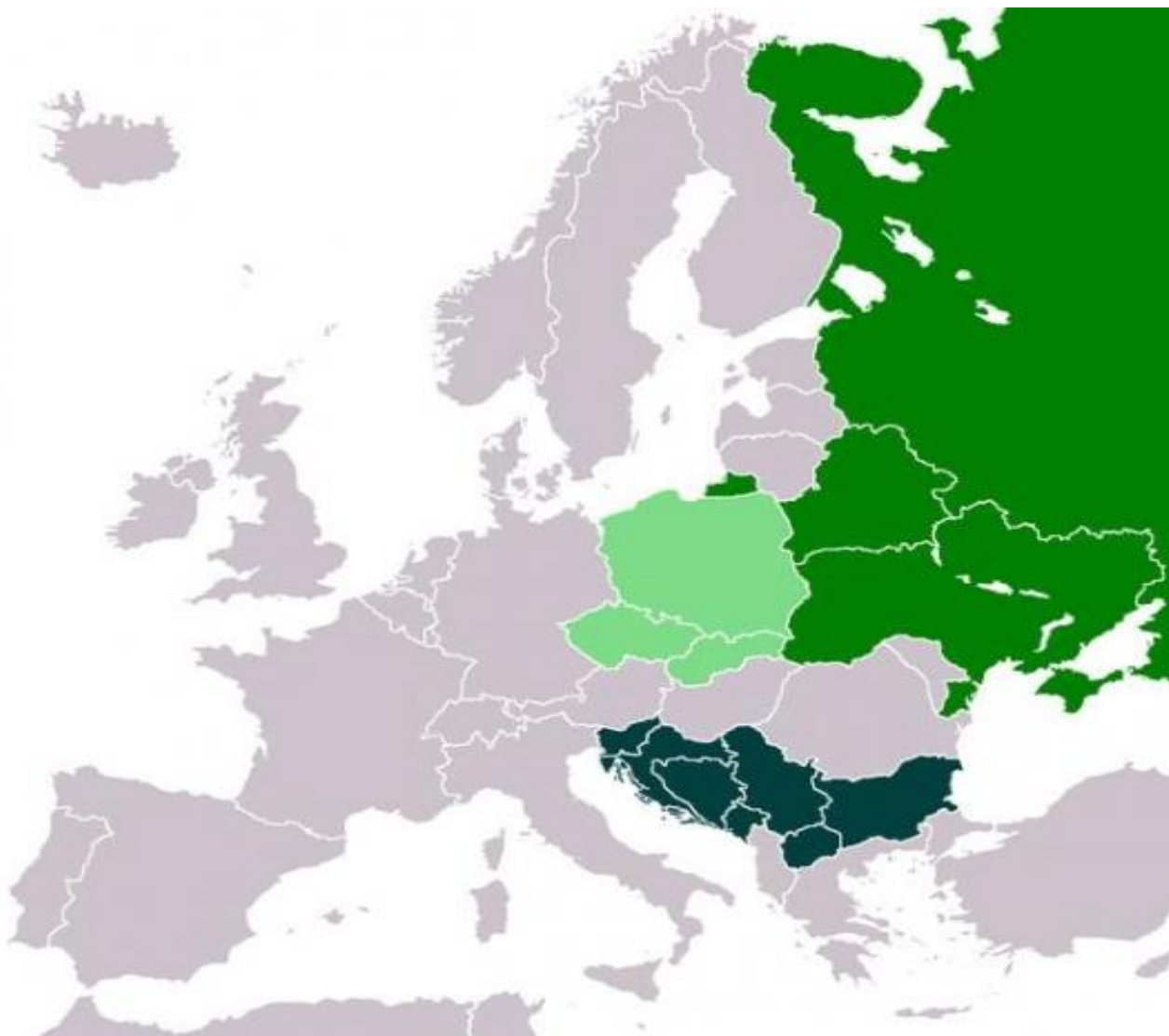
ІНДОВРОПЕЙСЬКА СІМ'Я	
1	Романська група
2	Германська група
3	Слов'янська група
4	Індоіранська група
5	Інші групи індоєвропейської сім'ї
СЕМІТО-ХАМІТСЬКА СІМ'Я	
6	Семітська група
7	Берберська група
8	Кушитська група
9	НАРОДИ НІЛО-САХАРСЬКОЇ СІМ'Ї
КАВКАЗЬКА СІМ'Я	
10	Уральська сім'я
11	Фіно-угорська група
12	Самодійська група
АЛТАЙСЬКА СІМ'Я	
13	Тюркська група
14	Монгольська група
15	Тунгусо-маньчжурська група

СІНО-ТИБЕТСЬКА СІМ'Я	
16	Китайська група
17	Тибето-бірманська група
ПАРАТАЙСЬКА СІМ'Я	
18	ПАРТАЙСЬКА СІМ'Я
АВСТРОАЗІЙСЬКА СІМ'Я	
19	В'єтська група
20	Мон-кхмерська група
21	Група м'яо-яо
22	Група мунда

АВСТРОНЕЗІЙСЬКА СІМ'Я	
23	Індонезійська група
24	Народи Мікронезії
25	Народи Меланезії

СЕРБІЇМ ПОСІДІТЬ СМ ПІД КИЇ

ПОЗНАЧЕНО КРАЇНИ, НА ТЕРИТОРІЇ ЯКИХ
БІЛЬШІСТЬ НАСЕЛЕННЯ СКЛАДАЮТЬ
СЛОВ'ЯНИ.



До народів германської групи належать німці, англійці, шведи, норвежці, а до романської – французи, італійці, іспанці, румуни, молдавани.



В АЗІЇ МОВАМИ ІНДОІРАНСЬКОЇ ГРУПИ РОЗМОВЛЯЮТЬ ХІНДУСТАНЦІ, ПЕРСИ, АФГАНЦІ.



Найчисленнішим народом на материку й у світі є китайці, які населяють Східну Азію. Вони належать до китайської групи сино-тибетської мовної сім'ї



АРАБИ ТА ЄВРЕЇ, ЯКІ ЖИВУТЬ У ПІВДЕННО-ЗАХІДНІЙ АЗІЇ, НАЛЕЖАТЬ ДО СЕМІТСЬКОЇ ГРУПИ.



Араби



Євреї



ОСОБЛИВУ МОВНУ ГРУПУ
СКЛАДАЮТЬ ЯПОНЦІ ТА

Японці



Корейці

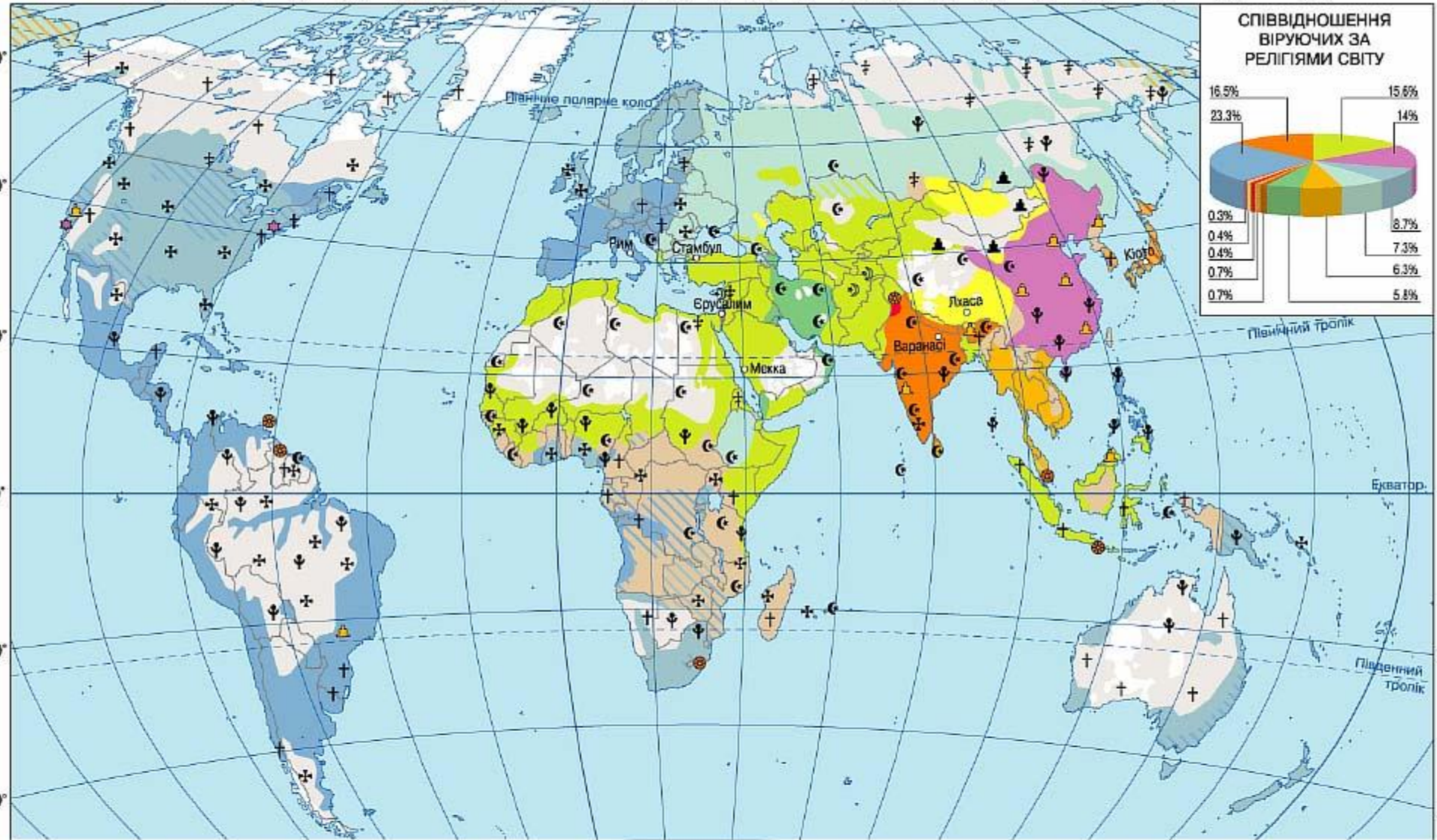
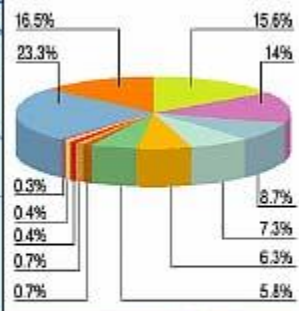


ТУРКИ, ТУРКМЕНИ, ТАТАРИ, АЗЕРБАЙДЖАНЦІ,
КАЗАХИ, ЯКІ ПРОЖИВАЮТЬ ЗДЕБІЛЬШОГО У
ЗАХІДНІЙ АЗІЇ, НАЛЕЖАТЬ ДО ТЮРКСЬКОЇ
МОВНОЇ ГРУПИ.



180° 160° 140° 120° 100° 80° 60° 40° 20° 0° 20° 40° 60° 80° 100° 120° 140° 160° 180° 160° 140° 120° 100°

**СПІВВІДНОШЕННЯ
ВІРУЮЧИХ ЗА
РЕЛІГІЯМИ СВІТУ**



ХРИСТІЯНИ	МУСУЛЬМАНИ	БУДДИСТИ	ІНДУЇСТИ	СИКХИ	ІУДАЇСТИ	Рідкозаселені території
☩ Католики	☪ Суніти	☸ Махаяна та хінаяна	☉ Індуїсти	☞ Сикхи	★ Іудаїсти	□ Незаселені території
✝ Протестанти	☶ Шіїти	☸ Ламаїсти	☎ Конфуціанці та даосисти	☎ Прихильники традиційних та малих релігій	○ Лхаса	○ Найбільші центри релігійного життя
✚ Православні, східні християни			☎ Синтоїсти			

СВІТОВІ РЕЛІГІЇ В ЄВРАЗІЇ

- Християнство (Європа)
- Мусульманство (іслам)
(пд-зх і цн Азії)
- Буддизм (пд-сх і сх Азії)

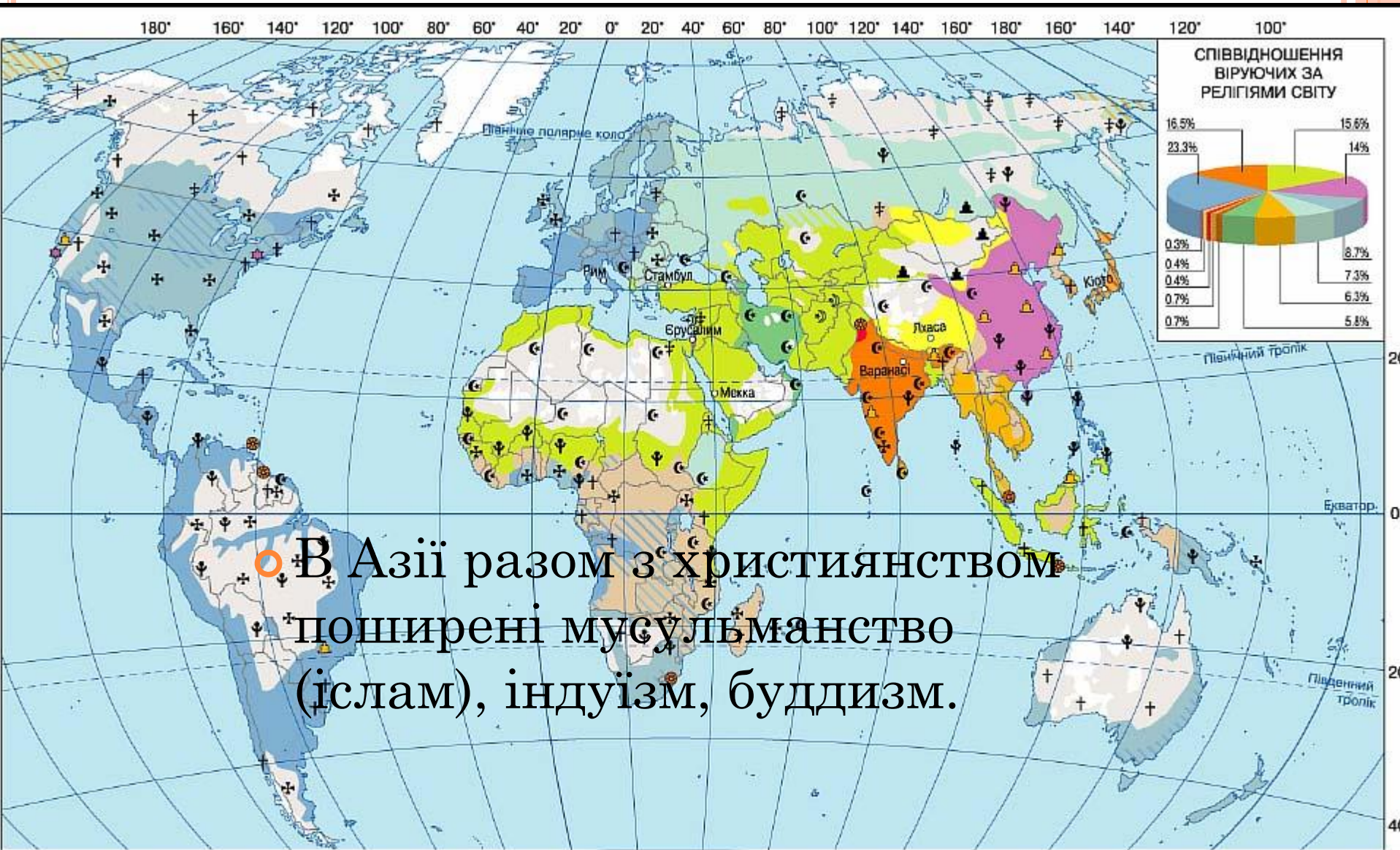


○ Пануючою релігією в Європі є
ХРИСТІЯНСТВО.



УКРАЇНА






В Азії разом з християнством поширені мусульманство (іслам), індуїзм, буддизм.

- | | | | | | |
|---------------------------------|-------------------|----------------------|---------------------------|--|--|
| ХРИСТІЯНИ | МУСУЛЬМАНИ | БУДДИСТИ | ИНДУЇСТИ | СИКХИ | Рідкозаселені території |
| ✝ Католики | ☪ Суніти | 🗽 Махаяна та хінаяна | 🕉 Індуїсти | ✡ ІУДАЇСТИ | ☐ Незаселені території |
| ✝ Протестанти | ☞ Шіїти | 🏔 Ламаїсти | 🏠 КОНФУЦІАНЦІ ТА ДАОСИСТИ | 👩 Прихильники традиційних та малих релігій | ○ Лхаса Найбільші центри релігійного життя |
| ✝ Православні, східні християни | | | 🏠 СИНТОЇСТИ | | |

МУСУЛЬМАНСЬКІ КУЛЬТОВІ СПОРУДИ — МЕЧЕТІ



ШРИ-ЛАНКА



Найвищою статуєю Будди на сьогодні вважається "Весняний Будда"



ПРИКЛАДОМ РІВНОПРАВНОГО СПІВІСНУВАННЯ В МЕЖАХ
ОДНІЄЇ КРАЇНИ РІЗНИХ РЕЛІГІЙ МОЖЕ БУТИ КІПР, НА
БАНКНОТІ 5 ФУНТІВ ТУТ ПРИСУТНІ І ХРИСТІЯНСЬКА
ЦЕРКВА, І МУСУЛЬМАНСЬКА МЕЧЕТЬ.



ТРАДИЦІЙНИЙ КОЛІР МУСУЛЬМАНСЬКОЇ РЕЛІГІЇ— ЗЕЛЕНИЙ, ІНДУЇЗМ — СИМВОЛІЧНО ПОЗНАЧЕНО ОРАНЖЕВИМ КОЛЬБОРОМ, ІНШІ (КРІМ МУСУЛЬМАН) РЕЛІГІЙНІ ГРУПИ НАСЕЛЕННЯ СИМВОЛІЗУЄ БІЛА СМУТА.



До християнських символів належить і герб міста Києва та Київської землі — зображення святого Архангела (Архистратига) Михаїла



Слова румунського й молдаванського
поета ХІХ ст. М. Емінеску
«Я романтиком лишаюсь»

Я не вірю ні в Єгови,
Ні в Аллаха, ані в Будду,
У небуття, у смерть не вір
І коритись їм не буду.

І тому, що я безвірник,
Не невольте мого серця,—
Все роблю я так, як хочу,
Ви ж робіть, як заманеться.

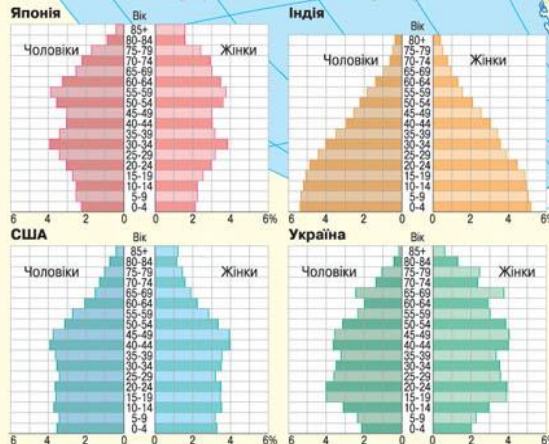


РОЗМІЩЕННЯ НАСЕЛЕННЯ

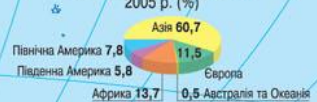
Поліонічна проекція ЦНДІАГК (1950)



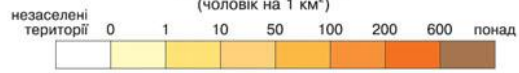
СКЛАД НАСЕЛЕННЯ ЗА СТАТТЮ ТА ВІКОМ, 2005 р. (% всього населення країни)



Розподіл населення у світі, 2005 р. (%)



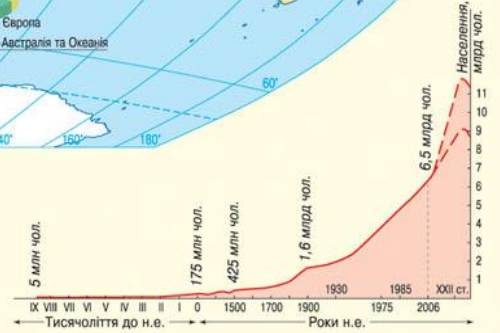
ГУСТОТА НАСЕЛЕННЯ (чоловік на 1 км²)



МІСЬКІ АГЛОМЕРАЦІЇ ТА НАЙБІЛЬШІ МІСТА (млн жителів)


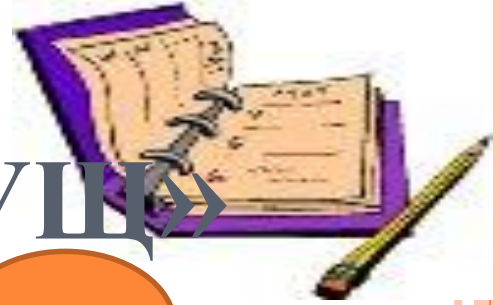
- понад 5
- від 3 до 5
- від 1 до 3

Примітка. Міські агломерації підписано за найбільшим із міст

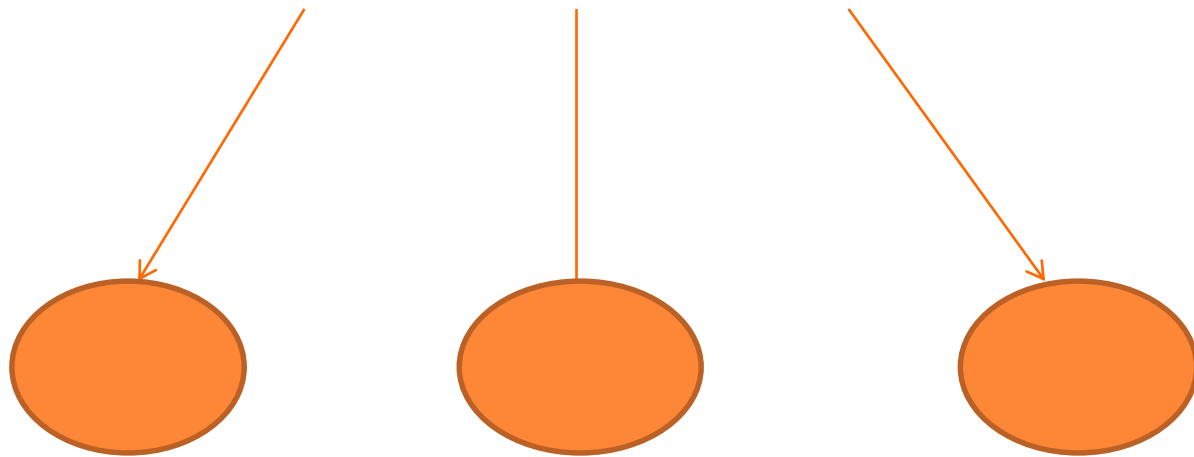


ДИНАМІКА ЧИСЕЛЬНОСТІ НАСЕЛЕННЯ ЗЕМЛІ В МИНУЛОМУ ТА ПРОГНОЗ НА МАЙБУТНЄ

«АСОЦІАТИВНИЙ КУЩ»



Населення Євразії



«Бліцопитування»

- 1. Коротко охарактеризуйте населення Євразії: расовий склад, мови, кількість та густота.
- 2. У чому ви бачите причини нерівномірного розміщення населення на материку Євразія?
- 3. Народи яких мовних груп проживають тільки в Азії?

